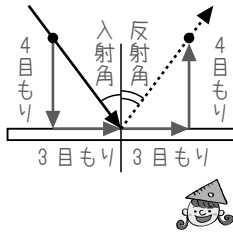
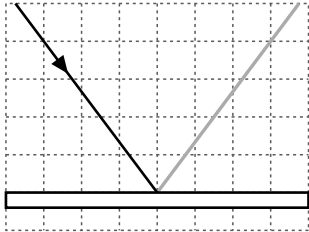
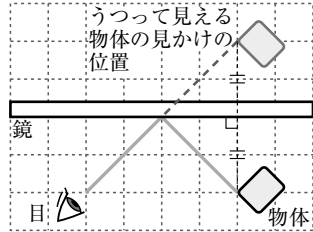


確かめよう！ 光の反射 ①反射する光の道すじと、②物体から目に届く光の道すじをなぞろう。

①

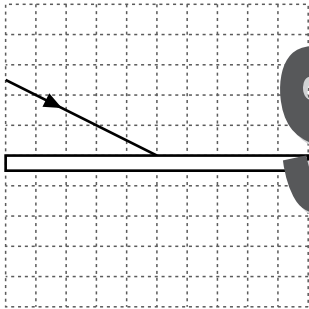


②

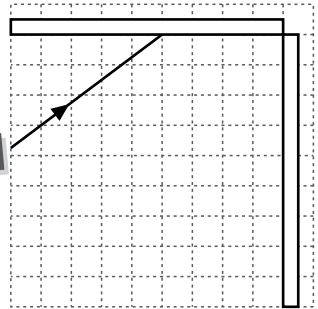
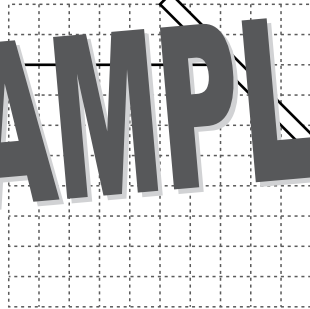


● 反射する光の道すじをかこう

(1)



(2)



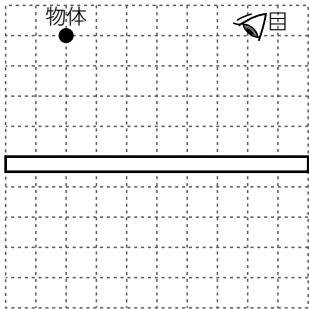
SAMPLE

2回反射するよ。

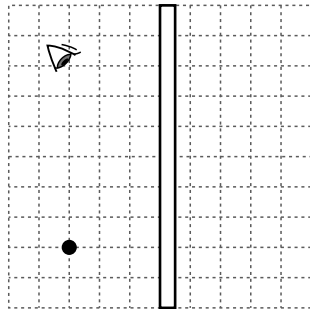


● 目に届く光の道すじと像をかこう

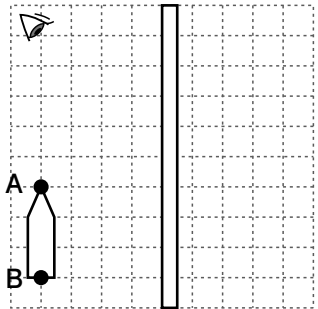
(1)



(2)



(3)



① 像の位置も作図で求める。

② 「A, Bから出る光の道すじ」と「像」をかく。